

بسم الله الرحمن الرحيم

پاستیل ریاضی
ماہلین
ویژہ کلاس دومی ها

مؤلف: مهندس آرزو قاری

سرشناسه: قارزی، آرزو، ۱۳۵۶-

عنوان و نام پدیدآور: پاستیل ریاضی ویژه کلاس دومی‌ها/ مولف آرزو قارزی

تصویرگر سیده‌ساناز موسوی‌فر، ریحانه پیران.

مشخصات نشر: تهران: ماهلین، ۱۴۰۳.

مشخصات ظاهری: ۱۲۳ ص.: مصور (رنگی)، جدول؛ ۲۲×۲۹ س.م.

شابک: ۹۷۸-۶۲۲-۴۸۶۰-۳۹-۲

وضعیت فهرست نویسی: فیبای مختصر

یادداشت: عنوان دیگر: پاستیل ریاضی دوم.

عنوان دیگر: پاستیل ریاضی دوم.

شناسه افزوده: موسوی‌فر، ساناز، ۱۳۷۶-، تصویرگر

شناسه افزوده: پیران، ریحانه، ۱۳۸۰-، تصویرگر

شماره کتابشناسی ملی: ۹۷۹۹۸۱۴۵

اطلاعات رکورد کتابشناسی: فیبای

ماهلین

ناشر: ماهلین

عنوان کتاب: پاستیل ریاضی دوم

مؤلف: آرزو قارزی

مدیر مسئول: فهیمه رئیسی زیارانی

گرافیکست: آرزو قارزی

تصویرگر: سیده‌ساناز موسوی‌فر - ریحانه پیران

شمارگان: ۱۰۰۰ نسخه

قیمت: ۳۸۵/۰۰۰ تومان

سال نشر: ۱۴۰۳

نوب چاپ: اول ۱۴۰۳



📞 ۰۹۱۲۴۴۹۰۶۲۵ | 🌐 Mahlin.books@gmail.com | 📷 Mahlin_books

هرگونه کپی برداری از این اثر بدون اجازه ناشر پیگرد قانونی دارد.

مقدمه‌ی ناشر

سلام به روی ماهتون
صدای من رو از آسمان نشر ایران می‌شنوین، از ماهلین...
از ماهی که هدفش نوری نو برای توسعه‌ی دبیر هست.
ماهلین می‌گه :
مهم‌ترین ارثی که والدین برای فرزندان می‌گذارند،
خونه، ماشین، دارایی گزاف نیست!
بلکه دو چیز است
اعتماد به نفس : باور به توانایی خود
عزت نفس : احساس ارزشمندی راجع به خود
اگه خواستی با ماهلین در ارتباط باشی و ستاره‌ی پرنور ما بشی :

شماره‌ی تماس ۰۶۲۵ ۰۹۱۲۴۴۹ | ۰۲۱۶۶۰۹۱۲۴۱

آدرس پیج و کانال تلگرام | Mahlin_books



ماهلین | ماه آسمان نشر ایران ✨



فهیمة رئیسی

مقدمه مؤلف

ریاضیات به عنوان یکی از مهم ترین دروس پایه ، نقش بسیار مهمی در توسعه فکری و شناختی کودکان دارد. این درس به کودکان کمک می کند تا تفکر منطقی و حل مسئله را بیاموزند و با مفاهیم بنیادین مانند اعداد ، جمع و شناخت اشکال هندسی آشنا شوند. کتاب کار ریاضی دوم با هدف ایجاد علاقه و درک بهتر مفاهیم ریاضی برای دانش آموزان این پایه تدوین شده است.

در این کتاب تلاش شده تا از روش های متنوع و جذاب برای آموزش مفاهیم ریاضی استفاده شود. فعالیت های تعاملی ، تمرین های متنوع و مسائل چالشی در سراسر کتاب به گونه ای طراحی شده اند که کودکان را ترغیب به مشارکت و یادگیری فعال می کنند. همچنین با ارائه تمرین های تدریجی از آسان به دشوار ، کودکان به مرور زمان با مفاهیم پیچیده تر آشنا شده و اعتماد به نفس بیشتری در حل مسائل ریاضی پیدا می کنند.

این کتاب همچنین به معلمان و والدین این امکان را می دهد که روند یادگیری کودکان را بهتر دنبال کنند و بر نقاط قوت و ضعف آن ها نظارت داشته باشند. امید است که این کتاب بتواند به عنوان یک ابزار مفید در کلاس درس و خانه ، پایه ریزی مناسبی برای آموزش ریاضی و توسعه مهارت های منطقی و تحلیلی کودکان فراهم آورد. در پایان از تمامی همکاران آموزشی ، معلمان محترم و والدین گرامی که با استفاده از این کتاب به پرورش نسل آینده کمک می کنند ، سپاس گزارم و امیدوارم این تلاش ها به رشد و پیشرفت کودکان عزیز کشورمان منجر شود.

با تشکر و احترام | آرزو قارزی



فهرست

- ۶ فصل اول (عدد و رقم)
- ۱۹ فصل دوم (جمع و تفریق اعداد دو رقمی)
- ۳۳ فصل سوم (اشکال هندسی)
- ۴۳ فصل چهارم (عددهای سه رقمی)
- ۶۵ فصل پنجم (اندازه گیری)
- ۸۳ فصل ششم (جمع و تفریق اعداد سه رقمی)
- ۱۰۰ فصل هفتم (کسر و احتمال)
- ۱۱۳ فصل هشتم (آمار و نمودار)

ماهین

فصل ۱

هر کدام از شکل های زیر چه عددی را نشان می دهند؟ به حروف بنویس.

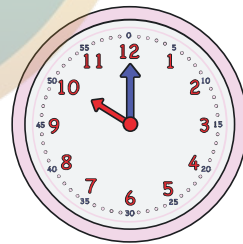

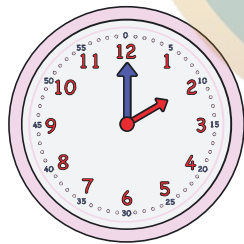


.....



.....

هر شکل چه ساعتی را نشان می دهد؟



.....

.....

.....

عدد ها را با هم مقایسه کن و بین آن ها علامت \lt \gt $=$ بگذار.

۳۴  ۵۶ ۴۹  ۴۳ ۶۵  ۶۵ ۹  ۵



جدول شگفت انگیز را کامل کن.



۵				۲		۷	
۴		۲			۹		۶
		۹		۸	۱		۴ ۲
		۵		۷			۳
۲	۶		۴			۹	۸
	۴			۶	۵		۷
	۴	۱	۵				۷
۷				۳	۲		۶
	۲				۷	۸	۵

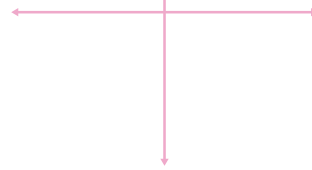
مؤلف: آرزو قازری



با شکل های زیر دسته های ده تایی درست کرده و جدول را کامل کن.



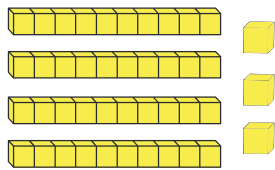
ده تایی یکی



به عدد.....

به حروف.....

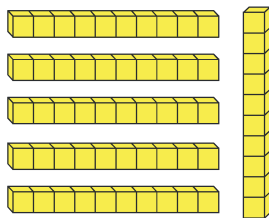
باتوجه به شکل ها، جدول را کامل کن و تعداد آن ها را به عدد و حروف بنویس.



یکی	ده تایی
-----	---------

به عدد.....

به حروف.....



یکی	ده تایی
-----	---------

به عدد.....

به حروف.....

نوشتن عددها را ادامه بده.

۴۲	۴۳				
					چهل و دو

جاهای خالی را کامل کن.

۲ ده تایی و ۹ یکی می شود.....

۶ ده تایی و ۴ یکی می شود.....

۴۰ یعنی..... ده تایی و..... یکی

۸۵ یعنی..... ده تایی و..... یکی

با رقم های ۵ و ۸ هر چقدر می توانی عدد دو رقمی بساز.



عددهای مانند هم را روی تلفن ها با یک رنگ مشخص رنگ آمیزی کن.
و در مستطیل بالای هر تلفن شماره ی منزل رو بنویس.



ماهلین

انتشارات
عددهای دورقمی زیر را به عدد و حروف بنویس.

رقم یکان ۸ و رقم دهگان ۵: ❁

رقم یکان ۰ و رقم دهگان ۶: ❁


رقم یکان ۶ و رقم دهگان ۴ تا کمتر از یکان: ❁

رقم دهگان ۳ و رقم یکان ۵ تا بیشتر از یکان: ❁

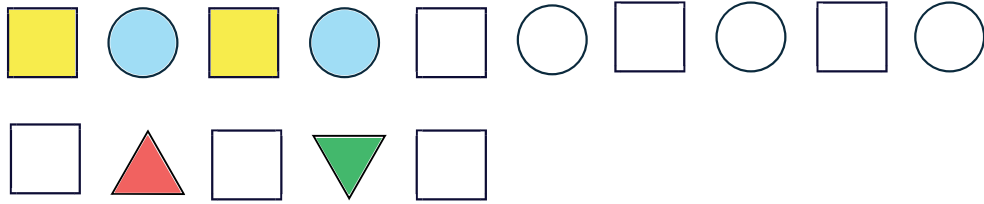
کوچکترین عدد دو رقمی: ❁

بزرگترین عدد دو رقمی: ❁


مؤلف: آرزو قارزی



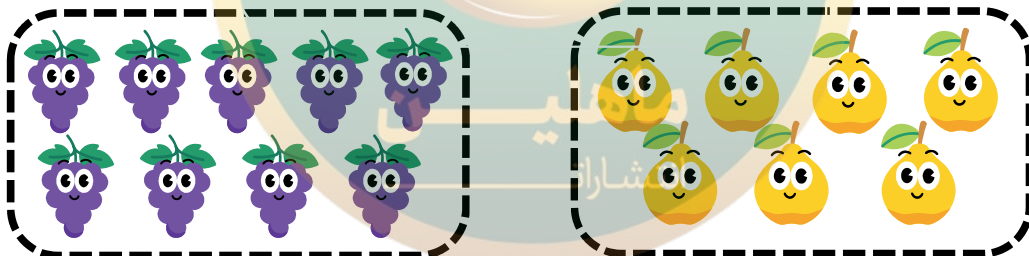
الگوهای زیر را ادامه بده.



عددهای زیر چندرقمی هستند؟





در کدام قسمت تعداد شکل ها بیشتر است؟ علامت بزن.



حالا شکل های هر قسمت را بشماره، آیا حدس تو درست بود؟

با توجه به شکل بالا عبارت زیر را کامل کن و از دو طرف بخوان.





با کارت های ۲ و ۹ هر چند می توانی عدد دو رقمی بساز.



با رقم های ۲ و ۵ و ۷ هر چند می توانی عدد دو رقمی بنویس.



عددهایی که یکان آن ۸ است قهوه ای، عددی که دهگان آن ۳ است آبی، عدد یک رقمی را زرد و عددی که یکان آن ۵ است را صورتی کن.



ماهلبین
انتشارات



علی ۱۴ کتاب داستان داشت، او ۸ کتاب دیگر خرید. حالا علی چند کتاب



داستان دارد؟ (با رسم چوب خط)

علی کتاب داستان دارد.


در یک گل فروشی، ۴۵ شاخه گل زرگس و لاله وجود دارد، اگر ۱۳ شاخه



از آن ها گل لاله باشد، چند شاخه گل زرگس داریم؟

(با رسم شکل نشان بده)

..... شاخه گل زرگس داریم.



ماهلین
انتشارات

زهرا ۸ ماهی در حوض حیاط خانه داشت، امروز پدرش ۵ ماهی دیگر



خرید، حالا تعداد ماهی ها را بنویس. (با رسم محور)

زهرا ماهی داخل حوض دارد.